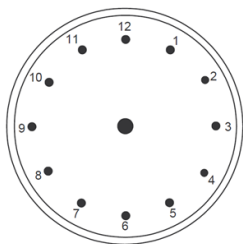




Mon CE1 pendant les vacances

30' / j



Il est 5 heures.



28 €

$$\begin{array}{r} 157 \\ + \quad 24 \\ \hline \dots\dots \end{array} \quad \begin{array}{r} 67 \\ - \quad 26 \\ \hline \dots\dots \end{array}$$

❖  Complète.

lettres	chiffres	décomposition
cent-vingt-cinq		
		200 + 40 + 3
	295	

❖  Relie les nombres à leur place sur la droite graduée.

88

210

190

280

350

370

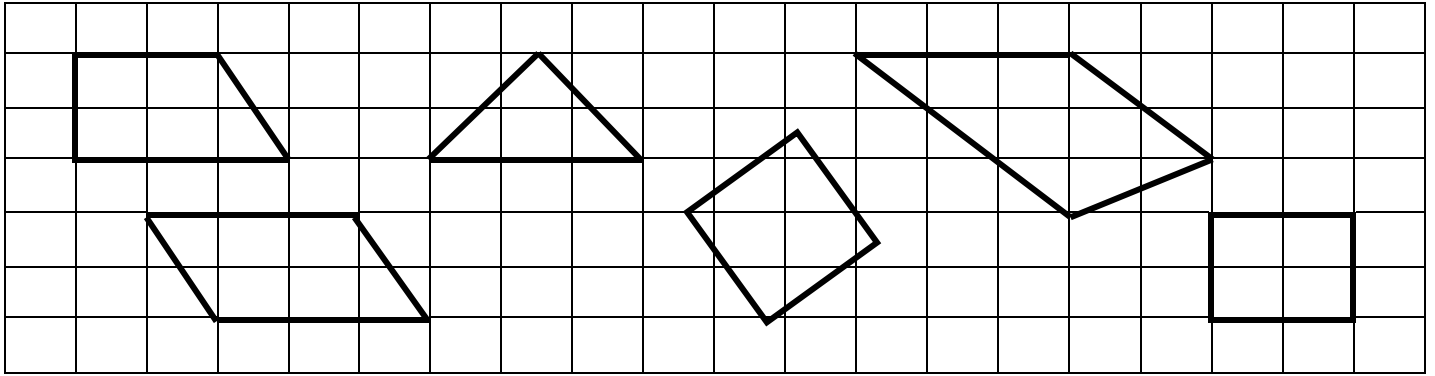
495




❖  Complète la suite numérique.

254	256	258							
-----	-----	-----	--	--	--	--	--	--	--


❖  Colorie les figures qui ont un angle droit.



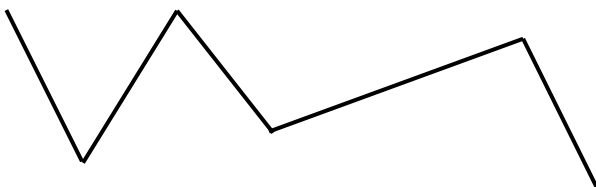
❖  Entoure les images symétriques.



❖    Trace un carré avec ta règle et ton équerre.



❖   Mesure la ligne brisée avec ta règle.



..... + + + + =

Cette ligne brisée mesure cm.

❖   Problème

Madame Pinso commande au restaurant un plat à 15 euros et un dessert à 8 euros.

Combien devra-t-elle payer ?

.....

