




Construction du carré et du rectangle

Exercices
CE2

1. Trace un carré dont la mesure du côté est égale à 4 carreaux.

Trace un rectangle dont la longueur est 6 carreaux et la largeur est 2 carreaux.




1. Relie les points te permettant de tracer un carré.

Relie les points te permettant de tracer un rectangle.



2. Termine le tracé pour obtenir un rectangle de 6 cm de longueur sur 3 cm de largeur. Nomme-le ABCD.



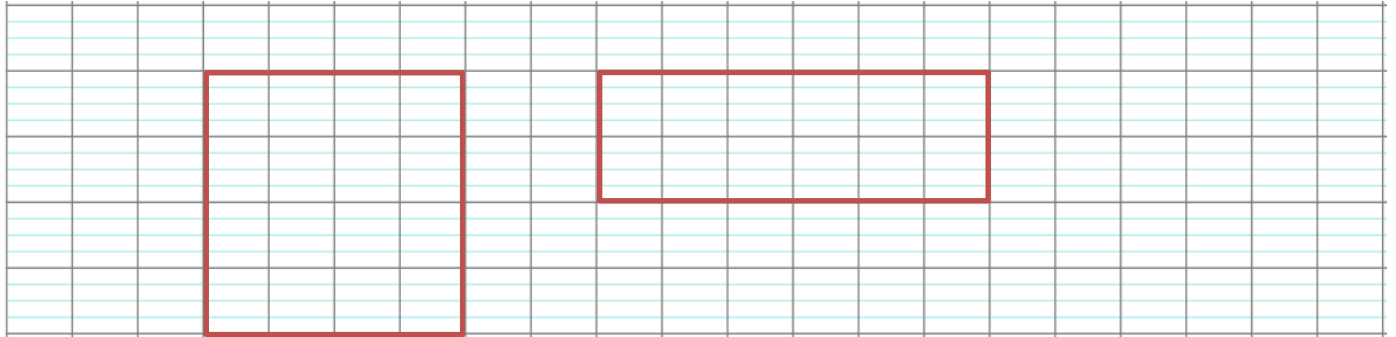


Construction du carré et du rectangle

Exercices
CE2

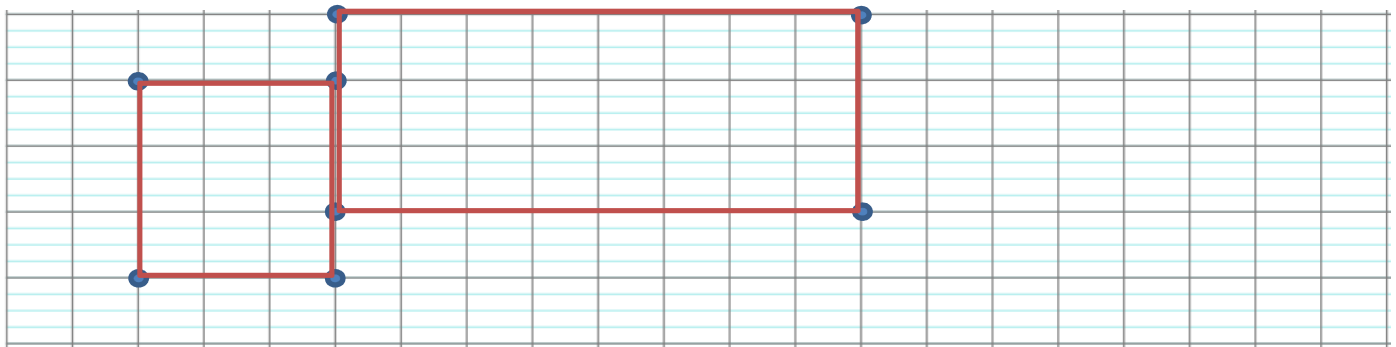
1. Trace un carré dont la mesure du côté est égale à 4 carreaux.

Trace un rectangle dont la longueur est 6 carreaux et la largeur est 2 carreaux.



2. Relie les points te permettant de tracer un carré.

Relie les points te permettant de tracer un rectangle.



3. Termine le tracé pour obtenir un rectangle de 6 cm de longueur sur 3 cm de largeur. Nomme-le ABCD.

