



Construction du carré et du rectangle

Evaluation


Prénom :

date :/..../20.....


Compétences	Acquis	Partiellement acquis	Non acquis	Dépassé
<ul style="list-style-type: none">Savoir raisonner sur des figures pour les reproduire avec des instruments : construire un carré et un rectangle.				

1. Trace un carré dont la mesure du côté est égale à 3 carreaux.

Trace un rectangle dont la longueur est 7 carreaux et la largeur est 4 carreaux.



2. Termine la construction du carré ABCD. Ce segment est un côté du carré.



3. Trace un rectangle EFGH de 8 cm de longueur et de 2 cm de largeur.



Construction du carré et du rectangle

Evaluation-corrrection


Prénom :

date : / / 20.....


Compétences	Acquis	Partiellement acquis	Non acquis	Dépassé
<ul style="list-style-type: none">Savoir raisonner sur des figures pour les reproduire avec des instruments : construire un carré et un rectangle.				

1. Trace un carré dont la mesure du côté est égale à 3 carreaux.

Trace un rectangle dont la longueur est 7 carreaux et la largeur est 4 carreaux.



2. Termine la construction du carré ABCD. Ce segment est un côté du carré.



3. Trace un rectangle EFGH de 8 cm de longueur et de 2 cm de largeur.

